

TEST č. 1 Označ všechny správné odpovědi na zadané otázky

1. Jízdní pruh pro cyklisty nebo stezku pro cyklisty

- A) může užít i osoba pohybující se na lyžích
 - B) může užít i osoba pohybující se na kolečkových bruslích
 - C) nesmí užít osoba pohybující se na lyžích
-

2. Cyklista dává znamení o změně směru jízdy

- A) upažením
 - B) vždy jen směrovými světly
 - C) zvednutím ruky
-

3. Řidič nesmí vjíždět na železniční přejezd

- A) je-li již vidět nebo slyšet přijíždějící vlak
 - B) ještě 3 minuty po průjezdu vlaku
 - C) sklápějí-li se, jsou-li sklopeny nebo zdvihají-li se závory
-

4. „Křižovatka“ je místo

- A) které je vždy označené dopravní značkou
 - B) kde se napojuje silnice nebo polní cesta
 - C) v němž se pozemní komunikace protínají nebo spojují
-

5. Řidič nesmí zastavit a stát

- A) před nemocnicí a v její blízkosti
 - B) na přechodu pro chodce a ve vzdálenosti kratší než 5 m před ním
 - C) na přejezdu pro cyklisty a ve vzdálenosti kratší než 5 m před ním
-

6. Výbavu a stav jízdního kola

- A) kontrolujeme jen občas
 - B) nemusíme kontrolovat
 - C) kontrolujeme před každou jízdou
-

7. Jízdní kolo musí být vybaveno

- A) přední odrazkou bílé barvy
- B) přední i zadní odrazkou oranžové barvy
- C) zadní odrazkou červené barvy

8. Tento pokyn policisty znamená


- A) „Zpomalit jízdu!“
- B) „Stůj!“ pro řidiče přijíždějící k jeho zadům
- C) „Stůj!“ pro řidiče přijíždějící k jeho čelu

**9. Osoba vedoucí jízdní kolo jde po správné straně vozovky**

- A) ano
- B) ne
- C) nevím

**10. Dopravní značka označuje**

- A) přejezd pro cyklisty
- B) přechod pro chodce
- C) sdružený přechod a přejezd

**11. Dodatková tabulka znamená, že**

- A) cyklista smí jet jen v protisměru
- B) je povolen vjezd cyklistům i v protisměru
- C) vjezd cyklistů v protisměru je zakázán

**12. Dopravní značka označuje**

- A) začátek dálnice
- B) pozemní komunikaci, na kterou cyklisté nesmějí vjíždět
- C) konec dálnice

**13. Která dopravní značka upozorňuje na kruhový objezd?**

A



B



C

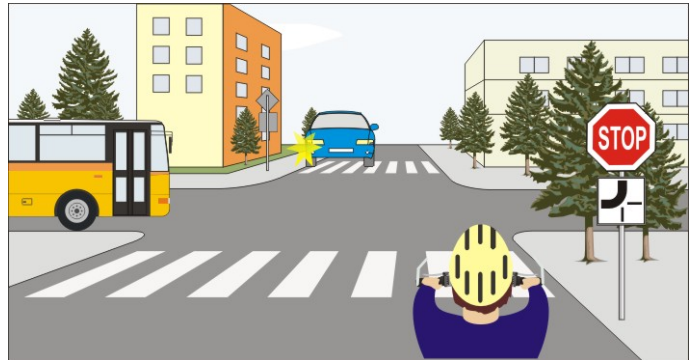


14. Takto rozsvícený světelný signál znamená

- A) připravit se k jízdě
- B) „Stůj!“
- C) připravit se k zastavení vozidla

15. Cyklista

- A) projede křižovatkou po projetí autobusu a modrého vozidla
- B) projede křižovatkou jako první
- C) přijíždí do křižovatky po vedlejší pozemní komunikaci



16. Vozidla projedou v tomto pořadí:

- A) 1. cyklista a červené současně, 2. modré
- B) 1. červené, 2. cyklista, 3. modré
- C) 1. modré současně s cyklistou, 2. červené



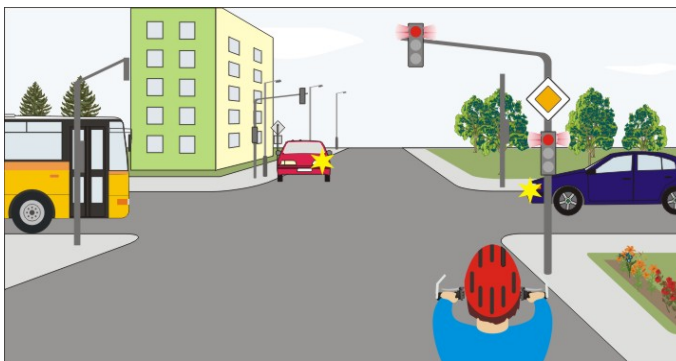
17. Cyklista:

- A) může vjet na kruhový objezd
- B) musí dát přednost modrému vozidlu
- C) nedává přednost modrému vozidlu, které vyjíždí z kruhového objezdu




18. Jako první projede křižovatkou:

- A) modré vozidlo
- B) autobus
- C) cyklista

**19. Cyklista:**

- A) projede křižovatkou jako druhý
- B) nesmí vjíždět do křižovatky
- C) projede křižovatkou jako první

**20. Cyklista projede křižovatkou:**

- A) poslední
- B) první současně s tramvají
- C) druhý

